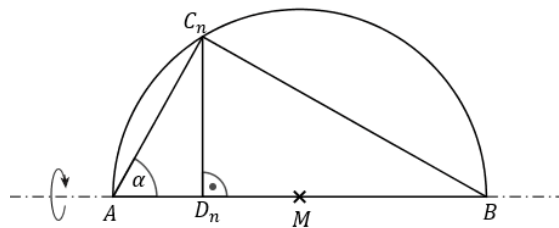


Mittlere-Reife-Prüfung 2016 Mathematik I Aufgabe A3

Aufgabe A3.

Punkte C_n liegen auf dem Thaleskreis über der Strecke $[AB]$ mit dem Mittelpunkt M . Die Winkel $\angle BAC_n$ haben das Maß α mit $\alpha \in]0^\circ; 90^\circ[$. Die Punkte A , B und C_n sind die Eckpunkte von Dreiecken ABC_n . Punkte D_n sind die Fußpunkte der Lote von den Punkten C_n auf die Strecke $[AB]$.
Es gilt: $\overline{AB} = 6$ cm.



Aufgabe A3.1 (2 Punkte)

Zeigen Sie, dass für die Länge der Strecken $[C_n D_n]$ in Abhängigkeit von α gilt:

$$\overline{C_n D_n}(\alpha) = 6 \cdot \cos \alpha \sin \alpha \text{ cm.}$$

Aufgabe A3.2 (3 Punkte)

Die Dreiecke ABC_n rotieren um die Achse AB .

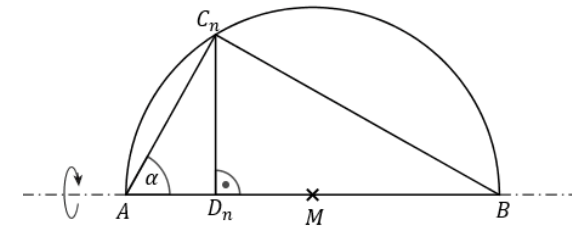
Begründen Sie rechnerisch, dass für das Volumen V der entstehenden Rotationskörper in Abhängigkeit von α gilt: $V(\alpha) = 72 \cdot \pi \cdot \cos^2 \alpha \cdot \sin^2 \alpha \text{ cm}^3$.

Berechnen Sie sodann für $\alpha = 30^\circ$ das Volumen des entstehenden Rotationskörpers.

Lösung

Aufgabe A3.

Punkte C_n liegen auf dem Thaleskreis über der Strecke $[AB]$ mit dem Mittelpunkt M . Die Winkel $\angle BAC_n$ haben das Maß α mit $\alpha \in]0^\circ; 90^\circ[$. Die Punkte A , B und C_n sind die Eckpunkte von Dreiecken ABC_n . Punkte D_n sind die Fußpunkte der Lote von den Punkten C_n auf die Strecke $[AB]$.
Es gilt: $\overline{AB} = 6$ cm.



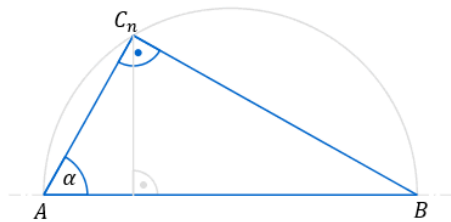
Aufgabe A3.1 (2 Punkte)

Zeigen Sie, dass für die Länge der Strecken $[C_n D_n]$ in Abhängigkeit von α gilt:

$$\overline{C_n D_n}(\alpha) = 6 \cdot \cos \alpha \sin \alpha \text{ cm.}$$

Lösung zu Aufgabe A3.1

Länge einer Strecke

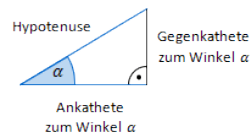


Erläuterung: *Thaleskreis*

Ein Dreieck aus den beiden Endpunkten des Durchmessers eines Halbkreises (Thaleskreis) und einem weiteren Punkt dieses Halbkreises, ergibt immer ein rechtwinkliges Dreieck.

Betrachtet wird das rechtwinklige Dreieck ABC_n .

Erläuterung: *Kosinus eines Winkels*

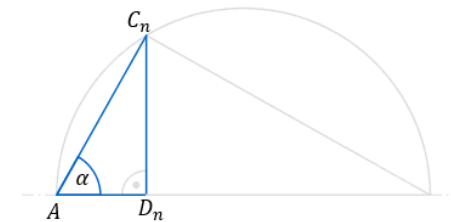


Der Kosinus eines Winkels α ist ein Seitenverhältnis.

$$\cos \alpha = \frac{\text{Ankathete zu } \alpha}{\text{Hypotenuse}}$$

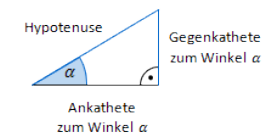
Gilt nur in rechtwinkligen Dreiecken.

$$\cos \alpha = \frac{\overline{AC_n}}{\overline{AB}} = \frac{\overline{AC_n}}{6} \Rightarrow \overline{AC_n} = 6 \cdot \cos \alpha$$



Betrachtet wird das rechtwinklige Dreieck AD_nC_n .

Erläuterung: *Sinus eines Winkels*



Der Sinus eines Winkels α ist ein Seitenverhältnis.

$$\sin \alpha = \frac{\text{Gegenkathete zu } \alpha}{\text{Hypotenuse}}$$

Gilt nur in rechtwinkligen Dreiecken.

$$\sin \alpha = \frac{\overline{C_nD_n}}{\overline{AC_n}} \Rightarrow \overline{C_nD_n} = \overline{AC_n} \cdot \sin \alpha$$

Erläuterung: *Einsetzen*

Für $\overline{AC_n}$ wird der berechnete Wert $6 \cdot \cos \alpha$ eingesetzt.

$$\overline{C_nD_n} = 6 \cdot \cos \alpha \cdot \sin \alpha$$

Aufgabe A3.2 (3 Punkte)

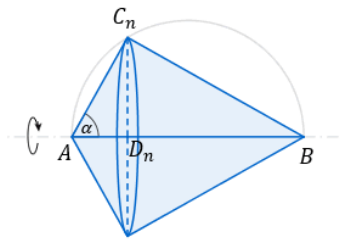
Die Dreiecke ABC_n rotieren um die Achse AB.

Begründen Sie rechnerisch, dass für das Volumen V der entstehenden Rotationskörper in Abhängigkeit von α gilt: $V(\alpha) = 72 \cdot \pi \cdot \cos^2 \alpha \cdot \sin^2 \alpha \text{ cm}^3$.

Berechnen Sie sodann für $\alpha = 30^\circ$ das Volumen des entstehenden Rotationskörpers.

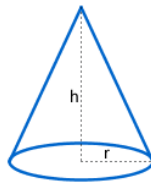
Lösung zu Aufgabe A3.2

Volumen des Rotationskörpers ermitteln



$$V = V_{\text{Kegel links}} + V_{\text{Kegel rechts}}$$

Erläuterung: *Volumen eines Kegels*



Ein Kegel mit Radius r und Höhe h , hat ein Volumen von:

$$V = \frac{1}{3} \cdot r^2 \cdot \pi \cdot h$$

$$V = \frac{1}{3} \cdot \overline{C_n D_n}^2 \cdot \pi \cdot \overline{AD_n} + \frac{1}{3} \cdot \overline{C_n D_n}^2 \cdot \pi \cdot \overline{D_n B}$$

Erläuterung: *Ausklammern*

Der Term $\frac{1}{3} \cdot \pi \cdot \overline{C_n D_n}^2$ wird aus beiden Summanden ausgeklammert.

$$V = \frac{1}{3} \cdot \pi \cdot \overline{C_n D_n}^2 \cdot \underbrace{(\overline{AD_n} + \overline{D_n B})}_{\overline{AB}}$$

Erläuterung: *Einsetzen*

Aus der vorherigen Teilaufgabe ist bekannt, dass $\overline{C_n D_n} = 6 \cos \alpha \cdot \sin \alpha$.

$$V = \frac{1}{3} \cdot \pi \cdot (6 \cos \alpha \cdot \sin \alpha)^2 \cdot 6$$

$$V = 72 \cdot \pi \cdot \cos^2 \alpha \cdot \sin^2 \alpha$$